

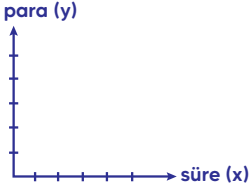
# PARTİKÜL MATEMATİK

MATEMATİK CİDDİ BİR İŞTİR EĞLENCE GEREKTİRİR...

## DOĞRU GRAFİKLERİ

SORU

Ali, içinde 50 TL olan kumbarasına her gün 5 TL atmaktadır. Buna göre, kumbarada biriken para ile geçen süre arasındaki doğrusal ilişkiyi bulup grafik ile gösteriniz.



SORU

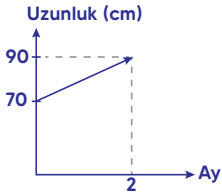
İçerisinde 40 litre su bulunan bir depoya her gün düzenli olarak 5 litre su konuluyor.

Buna göre depodaki su miktarı kaçınıcı günde 760 litre olur?

Melih Akgündüz

Partikül Matematik

SORU



Yukarıdaki grafik; 70 cm uzunluğundaki bir fidanın boyunun süreye göre uzama miktarını göstermektedir.

Buna göre bu fidanın 1 yıl sonra boyu kaç cm olur?

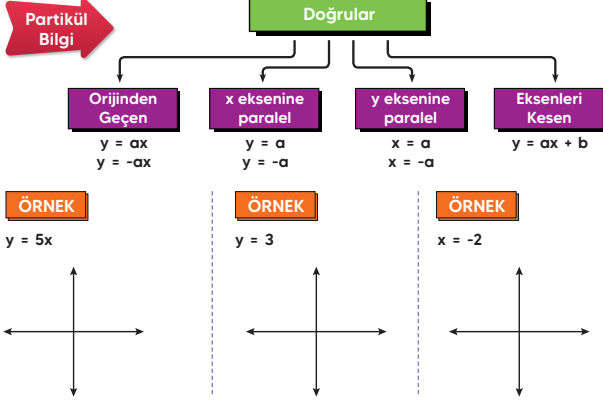
SORU

$6ax + 8y = 24$  doğrusu  $A(-3, 1)$  noktasından geçtiğine göre  $a$ 'nın değeri kaçtır?

# PARTİKÜL MATEMATİK

MATEMATİK CİDDİ BİR İŞTİR. EĞLENCE GEREKTİRİR...

## DOĞRU GRAFİKLERİ



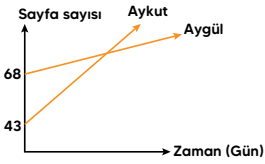
**SORU**

$3y - 2x = 6$  doğrusunu çiziniz.

Melih Akgündüz

Partikül Matematik

**SORU**



Yukarıdaki grafikte Aykut ile Aygöl'ün aynı kitaptan okudukları sayfa sayılarının zamana bağlı değişimi gösterilmektedir.

Sekiz gün sonra Aykut, Aygöl'den 15 sayfa önde olduğuna göre kaç gün sonra Aykut ile Aygöl'ün okuduğu sayfalar aynı olabilir?

- A) 8      B) 7      C) 6      D) 5

**ÖDEV**



**8. SINIF**  
**PARTİKÜL MATEMATİK**  
**LGS Yeni Nesil**  
**Soru Bankası**  
**Test 45 - 46 - 47**