

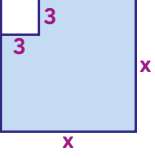
PARTİKÜL MATEMATİK

MATEMATİK CİDDİ BİR İŞTİR. EĞLENCE GEREKTİRİR...

ÖZDEŞLİKLER - 3

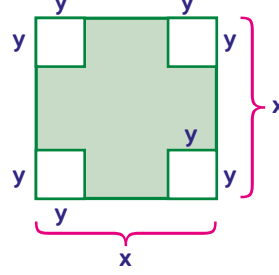
- Özdeşliklerin Modellenmesi -

ÖRNEK



Boyalı bölgeyi ifade eden özdeşliği yazınız.

ÖRNEK

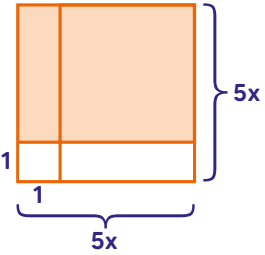


Boyalı bölgeyi ifade eden özdeşliği yazınız.

Melih Akgündüz

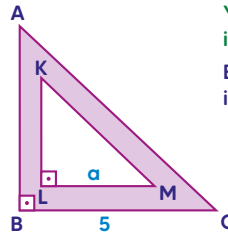
Partikül Matematik

ÖRNEK



Boyalı bölgeyi ifade eden özdeşliği yazınız.

ÖRNEK



Yanda verilen şekilde ABC ve KLM üçgenleri ikizkenar dik üçgenlerdir.

Buna göre boyalı bölgenin alanını veren cebirsel ifadeyi bulunuz.